



RAGIL BILI PRASETYO [10-TPL-1]

Started on Wednesday, 30 March 2022, 07:27

State Overdue

Question 1

Answer saved

Marked out of 1



Edit question

Angin laut adalah angin yang bergerak

Select one:

- Dari darat ke laut
- Dari laut ke darat
- Dari gunung ke laut
- Dari darat ke darat
- Dari laut ke laut

Response history

Step	Waktu	Action	State	Marks
1	30/03/22, 07:27	Started	Not yet answered	
2	30/03/22, 07:39	Saved: Dari laut ke darat	Answer saved	

Question 2

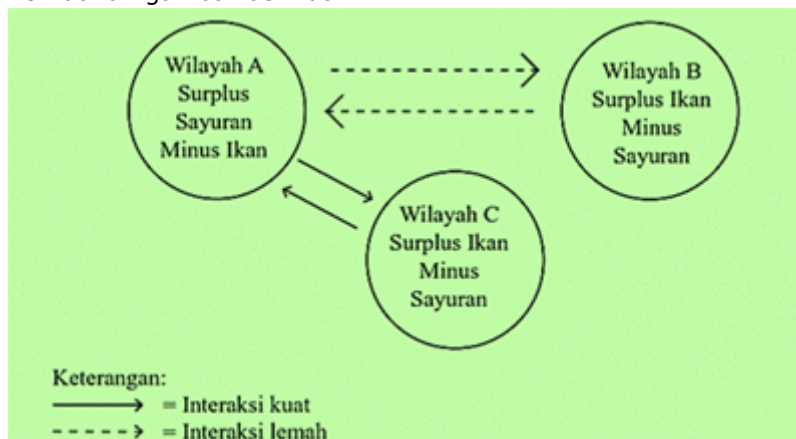
Answer saved

Marked out of 1



Edit question

Perhatikan gambar berikut!



Mengapa wilayah A lebih cenderung memilih berdagang dengan wilayah C padahal sebelumnya berdagang dengan wilayah B ?

Select one:

- Karena wilayah C lebih makmur daripada wilayah B
- Karena wilayah C lebih banyak penduduknya daripada wilayah B
- Karena wilayah C lebih kaya daripada wilayah B
- Karena wilayah C lebih akrab daripada wilayah B
- Karena wilayah C lebih dekat daripada wilayah B

Response history

Step	Waktu	Action	State	Marks
1	30/03/22, 07:27	Started	Not yet answered	
2	30/03/22, 08:06	Saved: Karena wilayah C lebih dekat daripada wilayah B	Answer saved	

Question 3

Answer saved

Marked out of 1



Edit question

Selain berputar pada porosnya, bulan juga berevolusi mengelilingi.....

Select one:

- Bumi dan matahari
- Matahari
- Ruang angkasa
- Planet
- Bumi

Response history

Step	Waktu	Action	State	Marks
1	30/03/22, 07:27	Started	Not yet answered	
2	30/03/22, 08:07	Saved: Bumi dan matahari	Answer saved	

Question 4

Answer saved

Marked out of 1



Edit question

Fungsi ekologi dari hutan mangrove yang ada di tepi pantai adalah...

Select one:

- Sebagai tempat hewan-hewan di pantai
- Sebagai penghalang ombak
- Sebagai tempat budidaya ikan tepi laut
- Sebagai penghijauan
- Sebagai penghasil oksigen di laut

Response history

Step	Waktu	Action	State	Marks
1	30/03/22, 07:27	Started	Not yet answered	
2	30/03/22, 08:08	Saved: Sebagai penghijauan	Answer saved	

Question 5

Answer saved

Marked out of 1



Edit question

Pada ketinggian tertentu awan akan mengalami pengembunan menjadi titik – titik air disebut...

Select one:

- Respirasi
- Transpirasi
- Evaporasi
- Kondensasi
- Presipitasi

Response history

Step	Waktu	Action	State	Marks
1	30/03/22, 07:27	Started	Not yet answered	
2	30/03/22, 08:09	Saved: Transpirasi	Answer saved	

Question 6

Answer saved

Marked out of 1



Edit question

Urutan proses siklus hidrologi di permukaan bumi...

Select one:

- Penguapan – pengembunan – uap air – awan – hujan
- Pengembunan – uap air – awan – penguapan - hujan
- Uap air – penguapan – pengembunan – awan – hujan
- Penguapan – awan – uap air – pengembunan – hujan
- Penguapan – uap air – awan – pengembunan – hujan

Response history

Step	Waktu	Action	State	Marks
1	30/03/22, 07:27	Started	Not yet answered	
2	30/03/22, 08:09	Saved: Pengembunan – uap air – awan – penguapan - hujan	Answer saved	

Question 7

Answer saved

Marked out of 1



Edit question

Apakah yang bisa dilakukan pemerintah supaya bisa memudahkan transfer barang kebutuhan pokok dari wilayah satu ke wilayah lainnya?

Select one:

- Membangun Rumah sakit dan Puskesmas sampai daerah yang terpencil
- Membangun sekolah dan universitas yang berstandar Internasional

- Membangun sarana elemunikasi yang lengkap dan canggih
- Membangun industri dan pertanian untuk memenuhi kebutuhan masyarakat Indonesia
- Membangun jalan, jembatan, pelabuhan dan bandara diseluruh wilayah Indonesia

Response history

Step	Waktu	Action	State	Marks
1	30/03/22, 07:27	Started	Not yet answered	
2	30/03/22, 08:09	Saved: Membangun sarana elemunikasi yang lengkap dan canggih	Answer saved	

Question 8

Answer saved

Marked out of 1



Edit question

Planet-planet yang memiliki ukuran besar adalah.....

Select one:

- Merkurius, Venus, Bumi, Jupiter
- Neptunus, Merkurius, Pluto, Neptunus
- Jupiter, Saturnus, Uranus, Neptunus
- Uranus, Pluto, Merkurius, Mars
- Jupiter, Saturnus, Pluto, Neptunus

Response history

Step	Waktu	Action	State	Marks
1	30/03/22, 07:27	Started	Not yet answered	
2	30/03/22, 08:10	Saved: Uranus, Pluto, Merkurius, Mars	Answer saved	

Question 9

Answer saved

Marked out of 1



Edit question

Apa yang menyebabkan terjadinya keterkaitan antarruang ?

Select one:

- Tidak memiliki ciri khas yang berbeda-beda antara suatu ruang dengan ruang lainnya
- Memiliki ciri khas yang berbeda-beda antara suatu ruang dengan ruang lainnya
- Adanya persamaan potensi alam yang dimiliki setiap ruang

- Adanya keadaan alam yang relatif sama antara satu ruang dengan ruang lainnya
- Suatu ruang memiliki iklim tropis diseluruh wilayah negara

Response history

Step	Waktu	Action	State	Marks
1	30/03/22, 07:27	Started	Not yet answered	
2	30/03/22, 08:10	Saved: Tidak memiliki ciri khas yang berbeda-beda antara suatu ruang dengan ruang lainnya	Answer saved	

Question 10

Answer saved
Marked out of 1



Edit question

Unsur – unsur cuaca adalah tersebut dibawah ini, yaitu...

Select one:

- Angin, awan dan topografinya
- Suhu, tekanan udara, dan hujan
- Topografi, suhu dan letak astronomi
- Hujan, awan dan manusia
- Suhu, tekanan udara, tinggi daerah dari permukaan laut dan hujan

Response history

Step	Waktu	Action	State	Marks
1	30/03/22, 07:27	Started	Not yet answered	
2	30/03/22, 08:11	Saved: Suhu, tekanan udara, tinggi daerah dari permukaan laut dan hujan	Answer saved	

Question 11

Answer saved
Marked out of 1



Edit question

Hujan yang terjadi hanya lokal saja di sekitar pegunungan dinamakan hujan

Select one:

- Orografis
- Vulkanis
- Lokal
- Tektonis
- Geografis

Response history

Step	Waktu	Action	State	Marks
1	30/03/22, 07:27	Started	Not yet answered	
2	30/03/22, 08:13	Saved: Orografis	Answer saved	

Question 12

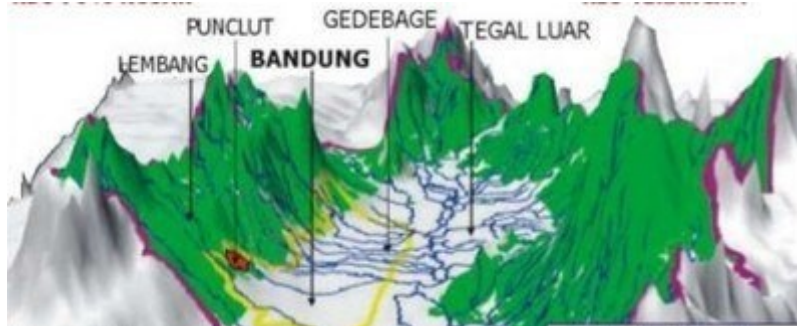
Answer saved

Marked out of 1



Edit question

Perhatikan gambar berikut!



Penyebab Bandung mengalami banjir kecuali....

Select one:

- Rusaknya aliran daerah aliran air di daerah pemukiman penduduk
- Pemukiman di daerah Punclut
- Pengerukan Pasir dan lumpur di wilayah aliran air pada sungai
- Terjadinya hujan lebat dalam waktu yang lama
- Daerah resapan air didaerah hulu mengalami kerusakan

Response history

Step	Waktu	Action	State	Marks
1	30/03/22, 07:27	Started	Not yet answered	
2	30/03/22, 08:13	Saved: Daerah resapan air didaerah hulu mengalami kerusakan	Answer saved	

Question 13

Answer saved

Marked out of 1



Edit question

Apa yang menyebabkan terjadinya keterkaitan antar ruang ?

Select one:

- Suatu ruang memiliki iklim tropis diseluruh wilayah negara
- Adanya keadaan alam yang relatif sama antara satu ruang dengan ruang lainnya
- Adanya persamaan potensi alam yang dimiliki setiap ruang
- Memiliki ciri khas yang berbeda-beda antara satu ruang dengan ruang lainnya

- Adanya kebutuhan yang berbeda-beda

Response history

Step	Waktu	Action	State	Marks
1	30/03/22, 07:27	Started	Not yet answered	
2	30/03/22, 08:13	Saved: Adanya keadaan alam yang relatif sama antara satu ruang dengan ruang lainnya	Answer saved	

Question 14

Answer saved

Marked out of 1



Edit question

Kondisi cuaca dipegaruhi oleh hal berikut, kecuali

Select one:

- Kegiatan pabrik
- Kecepatan angin
- Kelembaban udara
- Tekanan udara
- Temperatur udara

Response history

Step	Waktu	Action	State	Marks
1	30/03/22, 07:27	Started	Not yet answered	
2	30/03/22, 08:13	Saved: Kegiatan pabrik	Answer saved	

Question 15

Answer saved

Marked out of 1



Edit question

Bentuk interaksi antar ruang ditunjukkan oleh pernyataan

Select one:

- Petani mengembangkan tanaman padi di sawah irigasi
- Jenis mata pencaharian penduduk didataran tinggi relatif beragam
- Peternak mengembangkan ternaknya di suatu desa
- Penduduk dataran tinggi membeli bahan makanan pokok didataran rendah
- Pengembangan jenis transportasi kereta api didataran rendah

Response history

Step	Waktu	Action	State	Marks
1	30/03/22, 07:27	Started	Not yet answered	
2	30/03/22, 07:47	Saved: Jenis mata pencaharian penduduk didataran tinggi relatif beragam	Answer saved	

Question 16

Answer saved

Marked out of 1



Edit question

Kumpulan dari matahari, planet dan benda langit lainnya disebut

Select one:

- Bima sakti
- Rasi bintang
- Tata surya
- Satelit
- Galaksi

Response history

Step	Waktu	Action	State	Marks
1	30/03/22, 07:27	Started	Not yet answered	
2	30/03/22, 07:47	Saved: Tata surya	Answer saved	

Question 17

Answer saved

Marked out of 1



Edit question

Apabila membeli produk maka yang diperhatikan....dan....untuk memperoleh produk tersebut

Select one:

- Faktor uang dan tempat
- Faktor barang dan penampilan
- Faktor jarak dan biaya
- Faktor barang dan merek
- Faktor jarak dan tempat

Response history

Step	Waktu	Action	State	Marks
1	30/03/22, 07:27	Started	Not yet answered	
2	30/03/22, 07:48	Saved: Faktor uang dan tempat	Answer saved	

Question 18

Answer saved

Marked out of 1



Edit question

Salah satu cara terjadinya interaksi antarruang tidak langsung yaitu

Select one:

- Datang ke swalayan
- Datang ke pasar
- Membaca berita
- Datang ke rumah teman
- Datang ke tempat tujuan

Response history

Step	Waktu	Action	State	Marks
1	30/03/22, 07:27	Started	Not yet answered	
2	30/03/22, 07:50	Saved: Membaca berita	Answer saved	

Question 19

Answer saved

Marked out of 1



Edit question

Seseorang yang pergi tempat kerja karena penghasilannya mampu menutupi ongkos yang dikeluarkannya merupakan contoh interaksi antarruang yang disebut

Select one:

- Transportasi
- Mobilitas
- Partisipasi
- Interaksi
- Komunikasi

Response history

Step	Waktu	Action	State	Marks
1	30/03/22, 07:27	Started	Not yet answered	
2	30/03/22, 07:51	Saved: Komunikasi	Answer saved	

Question 20

Answer saved

Marked out of 1



Edit question

Kemudahan transfer yang diperlukan sangat tergantung pada

Select one:

- Biaya dan tempat
- Kondisi kesehatan dan waktu
- Tempat dan waktu
- Sarana dan prasarana

Biaya dan waktu

Response history

Step	Waktu	Action	State	Marks
1	30/03/22, 07:27	Started	Not yet answered	
2	30/03/22, 07:40	Saved: Biaya dan tempat	Answer saved	

Question 21

Answer saved

Marked out of 1



Edit question

Interaksi antarruang dalam bidang informasi dapat dilakukan dengan media (kecuali)

Select one:

- Internet
- Telegram
- Mesin Industri
- Televisi
- Radio

Response history

Step	Waktu	Action	State	Marks
1	30/03/22, 07:27	Started	Not yet answered	
2	30/03/22, 07:41	Saved: Mesin Industri	Answer saved	

Question 22

Answer saved

Marked out of 1



Edit question

Mengapa saat turun hujan terkadang diiringi oleh guntur atau petir

Select one:

- Karena awan mengandung angin
- Karena awan mengandung petir
- Karena awan mengandung muatan listrik
- Karena awan akan menjadi air hujan
- Karena awan yang bertabrakan

Response history

Step	Waktu	Action	State	Marks
------	-------	--------	-------	-------

Step	Waktu	Action	State	Marks
1	30/03/22, 07:27	Started	Not yet answered	
2	30/03/22, 07:44	Saved: Karena awan mengandung muatan listrik	Answer saved	

Question 23

Answer saved

Marked out of 1



Edit question

Nama lembaga yang bertugas memperkirakan keadaan cuaca adalah

Select one:

- Badan Meteorologi Klimatologi dan Geofisika (BMG)
- Badan Pusat Statistik (BPS)
- Badan Peramal Hujan (BPH)
- Badan Pengamat Cuaca (BPC)
- Badan Meteorologi (BM)

Response history

Step	Waktu	Action	State	Marks
1	30/03/22, 07:27	Started	Not yet answered	
2	30/03/22, 07:53	Saved: Badan Meteorologi Klimatologi dan Geofisika (BMG)	Answer saved	

Question 24

Answer saved

Marked out of 1



Edit question

Berikut ini peristiwa yang menggambarkan hubungan antar ruang , yakni ...

Select one:

- Sumur rakyat disuatu kampung mengalami bau yang tidak sedap sementara di kampung lain disekitarnya terdapat limbah pabrik pengolahan karet
- Reboisasi hutan akan meningkatkan daya serap air hujan
- Tolong menolong antar warga di suatu kampung
- Air mengalir dari pegunungan ke daerah dataran rendah
- Air hujan akan lebih meresap didaerah yang hijau dibandingkan daerah yang gundul

Response history

Step	Waktu	Action	State	Marks
------	-------	--------	-------	-------

Step	Waktu	Action	State	Marks
1	30/03/22, 07:27	Started	Not yet answered	
2	30/03/22, 07:54	Saved: Sumur rakyat disuatu kampung mengalami bau yang tidak sedap sementara di kampung lain disekitarnya terdapat limbah pabrik pengolahan karet	Answer saved	

Question 25

Answer saved

Marked out of 1



Edit question

Tempat di permukaan bumi, baik secara keseluruhan maupun hanya sebagian yang digunakan oleh makhluk hidup untuk tinggal disebut....

Select one:

- Ruang
- Wilayah
- Daerah
- Habitat
- Tempat

Response history

Step	Waktu	Action	State	Marks
1	30/03/22, 07:27	Started	Not yet answered	
2	30/03/22, 07:54	Saved: Tempat	Answer saved	

Question 26

Answer saved

Marked out of 1



Edit question

Indonesia mempunyai dua musim yaitu

Select one:

- Musim dingin dan musim panas
- Musim dingin dan musim kemarau
- Musim dingin dan musim hujan
- Musim hujan dan musim panas
- Musim hujan dan musim kemarau

Response history

Step	Waktu	Action	State	Marks
1	30/03/22, 07:27	Started	Not yet answered	

Step	Waktu	Action	State	Marks
2	30/03/22, 07:57	Saved: Musim hujan dan musim panas	Answer saved	

Question 27

Answer saved

Marked out of 1



Edit question

Pernyataan di bawah ini yang paling tepat tentang tata surya adalah . . .

Select one:

- Bumi dan bulan mempunyai percepatan gravitasi yang sama
- Bumi dan bulan adalah benda bermassa sehingga timbul gaya tarik menarik antara keduanya
- Bumi berputar pada porosnya
- Matahari mempunyai gaya gravitasi hanya pada siang hari
- Bumi dan matahari merupakan benda bermassa sehingga tidak mempunyai gaya gravitasi

Response history

Step	Waktu	Action	State	Marks
1	30/03/22, 07:27	Started	Not yet answered	
2	30/03/22, 07:59	Saved: Bumi dan bulan adalah benda bermassa sehingga timbul gaya tarik menarik antara keduanya	Answer saved	

Question 28

Answer saved

Marked out of 1



Edit question

Lintasan planet berbentuk elips dan matahari sebagai salah satu titik fokusnya. Maka titik terdekat dan terjauh planet beturut-turut adalah.....

Select one:

- Perihelium dan Aphelium
- Revolusi dan Rotasi
- Aphelium dan Perihelium
- Meteor dan Meteorit
- Orbit dan orbital

Response history

Step	Waktu	Action	State	Marks
1	30/03/22, 07:27	Started	Not yet answered	

Step	Waktu	Action	State	Marks
2	30/03/22, 07:59	Saved: Meteor dan Meteorit	Answer saved	

Question 29

Answer saved

Marked out of 1



Edit question

Keadaan cuaca yang meliputi tempat yang sangat luas dan dalam waktu lama disebut

Select one:

- Tropis
- Musim
- Iklim
- Cuaca
- Cuaca dominan

Response history

Step	Waktu	Action	State	Marks
1	30/03/22, 07:27	Started	Not yet answered	
2	30/03/22, 08:01	Saved: Iklim	Answer saved	

Question 30

Answer saved

Marked out of 1



Edit question

Peristiwa berikut ini yang merupakan dampak adanya gaya gravitasi bumi terhadap benda langit lain yaitu ...

Select one:

- Timbulnya gerhana bulan
- Timbulnya gerhana matahari
- Pasang surut air laut
- Bulan beredar mengitari bumi
- Gerak semu matahari

Response history

Step	Waktu	Action	State	Marks
1	30/03/22, 07:27	Started	Not yet answered	
2	30/03/22, 08:01	Saved: Timbulnya gerhana matahari	Answer saved	

Question 31

Answer saved

Marked out of 1



Edit question

Terjadinya interaksi antar ruang dipengaruhi oleh beberapa faktor yaitu sebagai berikut, kecuali

Select one:

- Saling melengkapi
- Kebutuhan akan hidup
- Kemudahan transfer
- Keuntungan materi
- Kesempatan antara

Response history

Step	Waktu	Action	State	Marks
1	30/03/22, 07:27	Started	Not yet answered	
2	30/03/22, 08:02	Saved: Kemudahan transfer	Answer saved	

Question 32

Answer saved

Marked out of 1



Edit question

Seseorang akan menjual sayuran dari wilayah A ke wilayah B namun jalan menuju wilayah B mengalami kerusakan sehingga tidak bisa dilalui.akibatnya orang tersebut tidak jadi berjualan ke wilayah B.hal ini termasuk kondisi....

Select one:

- Tolong menolong
- Saling melingkapi
- Kesempatan antara
- Keterbatasan
- Kemudahan transfer

Response history

Step	Waktu	Action	State	Marks
1	30/03/22, 07:27	Started	Not yet answered	
2	30/03/22, 08:03	Saved: Keterbatasan	Answer saved	

Question 33

Answer saved

Marked out of 1



Edit question

Salah satu akibat dari gerak rotasi bumi adalah...

Select one:

- Adanya perbedaan waktu
- Adanya siang dan malam
- Adanya pergantian bulan

- Semua salah
- Adanya istilah barat dan timur

Response history

Step	Waktu	Action	State	Marks
1	30/03/22, 07:27	Started	Not yet answered	
2	30/03/22, 08:04	Saved: Adanya istilah barat dan timur	Answer saved	

Question 34

Answer saved
Marked out of 1



Edit question

Perbedaan pokok antara iklim dan cuaca terletak pada...

Select one:

- Waktu dan relief nya
- Daerah dan unsur – unsurnya
- Luas daerah iklim atau cuaca tersebut
- Waktu dan luas daerahnya
- Waktu dan keadaan tropografinya

Response history

Step	Waktu	Action	State	Marks
1	30/03/22, 07:27	Started	Not yet answered	
2	30/03/22, 08:04	Saved: Waktu dan relief nya	Answer saved	

Question 35

Answer saved
Marked out of 1



Edit question

Mengapa penduduk wilayah pegunungan membutuhkan penduduk wilayah pantai ?

Select one:

- Karena penduduk wilayah pegunungan membutuhkan ikan laut sebagai protein hewani
- Karena penduduk pegunungan membutuhkan sayur dan buah untuk memenuhi kebutuhannya
- Karena penduduk wilayah pegunungan lebih kaya daripada daerah pantai
- Karena penduduk pegunungan lebih miskin hidupnya daripada penduduk pantai
- Karena penduduk pegunungan lebih makmur hidupnya daripada penduduk pantai

Response history

Step	Waktu	Action	State	Marks
1	30/03/22, 07:27	Started	Not yet answered	
2	30/03/22, 08:05	Saved: Karena penduduk pegunungan membutuhkan sayur dan buah untuk memenuhi kebutuhannya	Answer saved	

Question 36

Answer saved

Marked out of 1



Edit question

Perhatikan pernyataan berikut ini! (a) Tempat yang berada di muka bumi (b) Mencakup sebagian atau seluruh muka bumi (c) Tempat tinggal makhluk hidup
Pernyataan tersebut menunjukkan pengertian dari

Select one:

- Waktu
- Bulan
- Ruang
- Planet
- Ekosistem

Response history

Step	Waktu	Action	State	Marks
1	30/03/22, 07:27	Started	Not yet answered	
2	30/03/22, 08:05	Saved: Waktu	Answer saved	

Question 37

Answer saved

Marked out of 1



Edit question

Pada saat tertentu air laut akan meninggi dan pada saat yang lain air laut akan surut . Naik turunnya permukaan air laut disebabkan adanya

Select one:

- Angin laut
- Gaya tarik bulan
- Rotasi bumi
- Gaya tarik bumi.
- Gelombang air laut

Response history

Step	Waktu	Action	State	Marks
------	-------	--------	-------	-------

Step	Waktu	Action	State	Marks
1	30/03/22, 07:27	Started	Not yet answered	
2	30/03/22, 08:06	Saved: Angin laut	Answer saved	

Question 38

Answer saved

Marked out of 1



Edit question

Perhatikan pernyataan berikut ini! (a) Proses timbal balik, (b) Bisa mempengaruhi dua pihak atau lebih dalam bertingkah laku, (c) Terjadi kontak langsung maupun tidak langsung
Pernyataan tersebut menunjukkan pengertian....

Select one:

- Ruang
- Interaksi
- Transportasi
- Informasi
- Kolaborasi

Response history

Step	Waktu	Action	State	Marks
1	30/03/22, 07:27	Started	Not yet answered	
2	30/03/22, 08:06	Saved: Interaksi	Answer saved	

Question 39

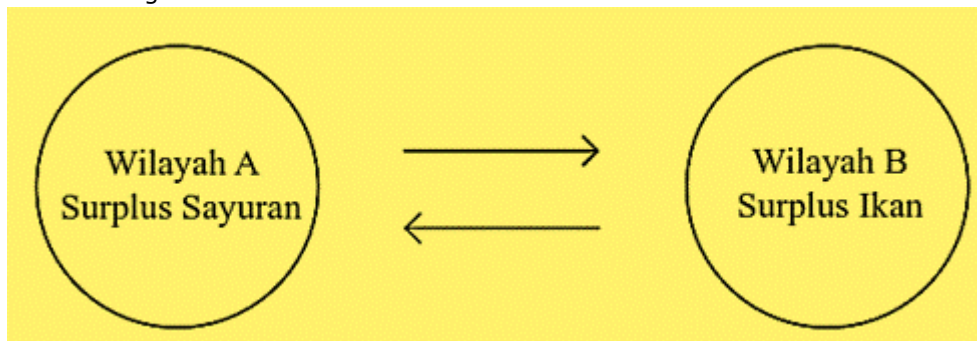
Answer saved

Marked out of 1



Edit question

Perhatikan gambar berikut!



Gambar tersebut menunjukkan interaksi sosial yang

Select one:

- Keadaan yang bias dipindahkan
- Saling melengkapi
- Saling menggantikan
- Kesempatan antara
- Saling meniadakan

Response history

Step	Waktu	Action	State	Marks
1	30/03/22, 07:27	Started	Not yet answered	
2	30/03/22, 08:06	Saved: Saling menggantikan	Answer saved	

Question 40

Answer saved

Marked out of 1



Edit question

Kondisi saling melengkapi terjadi apabila

Select one:

- Ada wilayah-wilayah yang berbeda luasnya
- Ada wilayah-wilayah yang berbeda komoditasnya
- Ada wilayah-wilayah yang berbeda budayanya
- Ada wilayah-wilayah yang berbeda jaraknya
- Ada wilayah-wilayah yang yang berbeda bentuknya

Response history

Step	Waktu	Action	State	Marks
1	30/03/22, 07:27	Started	Not yet answered	
2	30/03/22, 08:14	Saved: Ada wilayah-wilayah yang berbeda komoditasnya	Answer saved	

Finish review